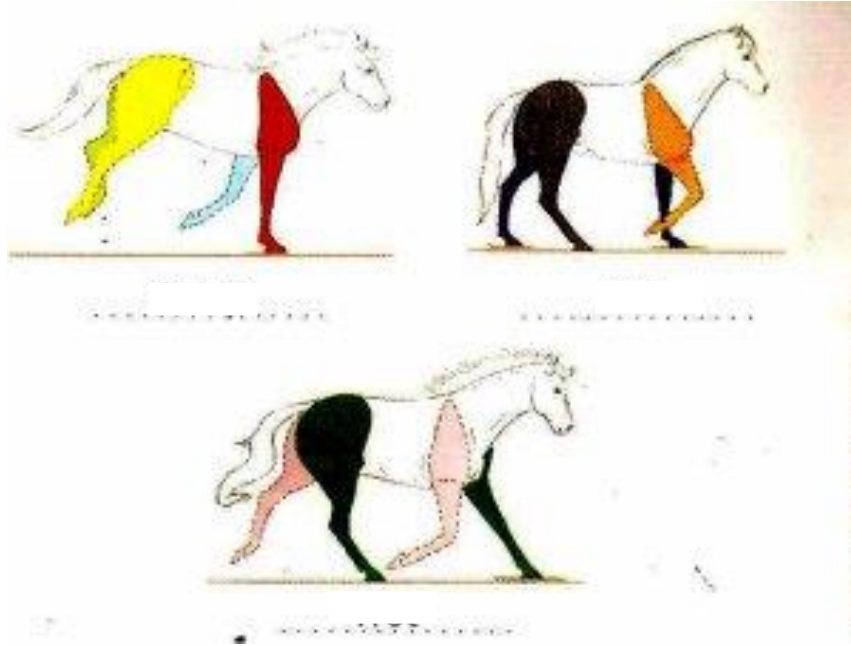


LES ALLURES

- Nomme, sous chaque photo, l'allure du cheval.



- Pour chaque affirmation, entoure la ou les bonne(s) réponse(s).

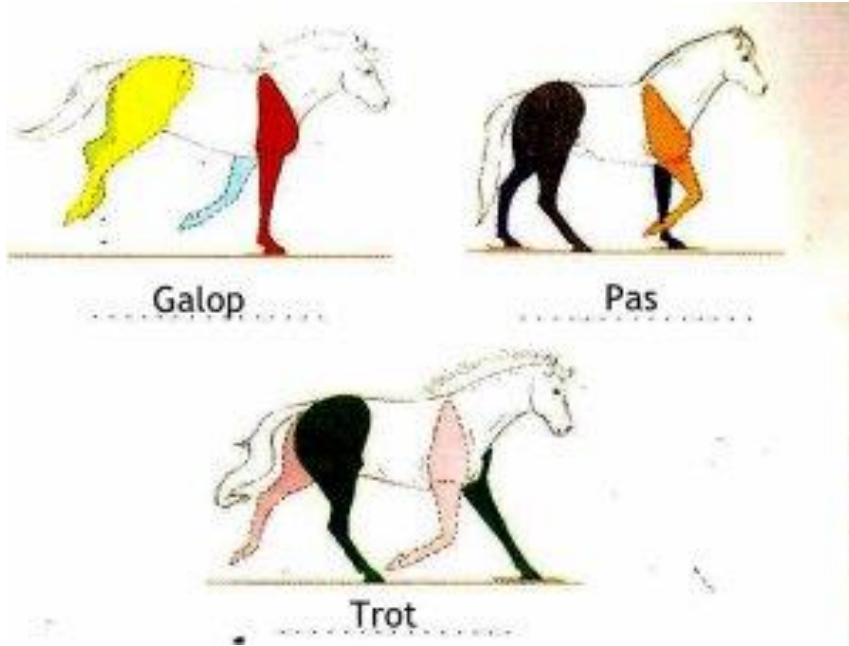
La vitesse du galop est en moyenne de ...	12 km/h	21 km/h	35 km/h
La vitesse du pas est en moyenne de ...	7 km/h	14 km/h	21 km/h
La vitesse du trot est en moyenne de ...	9 km/h	14 km/h	18 km/h
Les aides ARTIFICIELLES sont ...	La cravache	Les mains	Les enrênements
Les éperons sont des aides ...	naturelles	artificielles	synthétiques

- Nomme les 4 aides naturelles qui sont fléchées en rouge sur la photo.




-
-
-
-

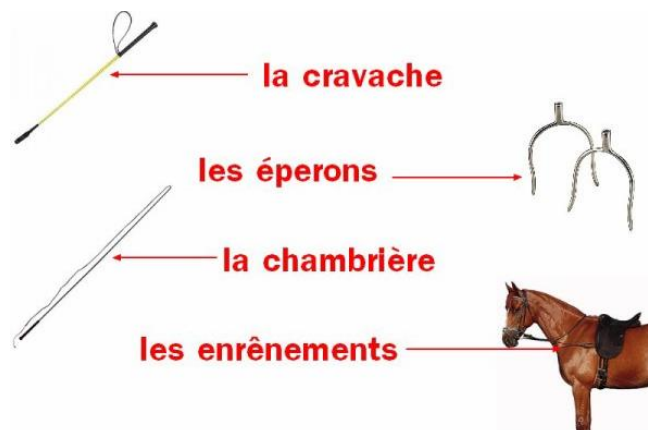
CORRECTIONS



La vitesse du galop est en moyenne de ...	12 km/h	21 km/h	35 km/h
La vitesse du pas est en moyenne de ...	7 km/h	14 km/h	21 km/h
La vitesse du trot est en moyenne de ...	9 km/h	14 km/h	18 km/h
Les aides ARTIFICIELLES sont ...	La cravache	Les mains	Les enrênements
Les éperons sont des aides ...	naturelles	artificielles	synthétiques



Les aides naturelles



Les aides artificielles